



ハイエナとカメ

アフリカの物語

サリム・カサンバ

日本語: Aiko Takata



幼児期からの
おうち算数

Early
Family
Math



Interactive Story

日本語

保護者の方へ

3つのレベル お子さんに合ったレベルを選びましょう。質問やコメントをする時には考える時間を与えましょう。お子さんが答えに詰まった時は手助けをし、正しい答えには少し膨らませた質問やコメントをしてみましょう。

レベル**1** 簡単に直接的な質問をします。見えるものについて尋ねたり指をさしたりしましょう。おもちゃはどこかな？何をしているのかな？その名前は何かな？色は何かな？いくつボールがあるかな？

レベル**2** お話のある部分について一般的な質問または自由に答えられる質問をしてみましょう。ここで何が起きていると思う？この物の仲間は何かな？

レベル**3** お話の筋について質問をしてみましょう。何が起こったのかな？次はどうなるかな？これと似たようなことが前にあったかな？この時、この子はどう感じているかな？

算数のテーマと内容 この物語には形と量が出てきます。練習する単語：丸、円すい、異なった形、六角形、正六角形、タイルのデザイン、正方形、模様、多い、少ない、より少ない、同じ、等しい、数の違い、見積もる、強い、弱い、速い、遅い、ゆっくり、スピード。

楽しく読んで話しましょう！ 書かれている質問やコメントはほんの一例に過ぎません。

1 回目は赤の質問とコメントを読みます。

2 回目は青の質問とコメントを読みます。

3 回目は緑の質問とコメントを読みます。

その後はお子さんの興味に合わせて、楽しい方向に話を進めてください。




むかしむかしあると
ころに、欲張りなハイ
エナがいました。

1. これらの家から煙がたくさ
ん出ているように見えます。
ハイエナの村にはいくつの家
がありますか？

2. それぞれの家は丸く、屋根
の先端まで丸くなっています。
それぞれの屋根は円すいの形
をしています。あなたのまわ
りに円すいの形をしたものは
ありますか？

3. ハイエナのそれぞれの足の
指を数えてください。ハイエ
ナはすべての足に同じ数の指
があります—それはこの絵で
示していますか？




カメもいました。ハイエナとカメは友達でした。

1. カメの村にはいくつの家がありますか？ 2つの村を合わせると、家はいくつありますか？

2. どちらの村がより多くの家がありますか？ それとも同じ数ですか？

3. ハイエナの村と比べて、カメの村の屋根は何が違いますか？ それはなぜだと思いますか？




ハイエナはカメに
言いました。「僕た
ちではちみつを探そ
う。」

1. 家の絵を最初のページと比
べてください。彼らは誰の家
の前にいるのでしょうか？

2. ハイエナとカメは友達では
ないように見えます。物語の
最後で彼らの友情に何か起こ
ると思いますか？

3. あなたには自分とは違う友達
がいますか？その違いは友情を
弱めたり強くしたりしますか？




ハイエナは速く走りました。カメはゆっくりと後について行きました。カメは怖がっていました。

1. ハイエナとカメはまったく異なる速度で移動します。あなたは自分よりもずっと速い人、それともずっと遅い人と一緒に散歩したことがありますか？あなた達2人はそれぞれ異なる速度でどのようにして上手くいきましたか？

2. 本当のハイエナとカメは、これらの2匹のように見えません。その違いは何でしょうか？それらの違いは、物語の後半で重要になります！

3. カメは後ろを振り返っています。カメは何を見ているのでしょうか？




ハイエナとカメは
川を渡り、濡れました。

1. 「ハイエナとカメは濡れました。」という表現は、絵では控えめな言い方をしているように思えます。ハイエナは泳ぎがとても上手なので、ハイエナがとても辛そうに見えるのは驚くべきことです。

2. あなたは泳ぐことが好きですか？川やその他の自然の水場で泳いだことがありますか？

3. 水はどの方向に流れていると思いますか？どのようにして分かりますか？




それから、ハイエナとカメはハチの巣を見ました。ハイエナは巣に向かって走りました。

1. 木々にはたくさんの巣があります。時々、新しく住むところを探しにハチの群れが飛び回ることがあります。あなたはハチの群れを見たことがありますか？

2. あなたはハチが好きですか？それとも、ハチが怖いですか？あなたが怖いものは何ですか？

3. ハイエナは前足に4本の指、後ろ足に3本の指の姿が描かれています。あなたの手にはあと何本の指がありますか？あなたの足にはあと何本の指がありますか？




ハイエナはカメに
言いました。「登っ
て、ハチの巣を取っ
てこい。」

1. カメが木に登ることは想像
がしにくいです。なぜハイエ
ナはカメより木登りが上手な
のでしょうか？

2. なぜハイエナはカメに木に
登ってハチの巣を取ってくる
ように言ったのでしょうか？

3. 六角形は6つの直線の辺を
持つ形です。辺がすべて同じ
長さの場合、正六角形と言い
ます。ハチの巣の小さな穴は
それぞれ正六角形です。あな
たの身の回りに六角形ででき
ているものはありますか？



カメはゆっくりと登りました。ハイエナは怒って、カメに叫びました。

1. なぜハイエナは叫んだのでしょうか？ハイエナの叫び声はカメが木に登ることに役立ちましたか？

2. あなたは怒って叫び始めることはありますか？あなたの叫び声は状況を良くするのに役立ちましたか？

3. 正六角形のタイルを組み合わせると、美しいタイルの床と壁ができます。正方形（4つの等しい直線の辺と直角を持つ形）のタイルもうまく調和します。あなたが見たことのある床や壁の他のタイルの模様について説明してください。



カメがハチの巣に触れると、ハチが空中に群がりました。

1. なぜカメはハチからは安全で、ハイエナは安全ではないのでしょうか？

2. 簡単に数えられないほど多くのものがある場合、見積もりは知識に基づいた推測になります。ハチは何匹いると推測しますか？

3. ハチの数を一生懸命に数えてみましょう。あなたの素早い推測とどれくらい外れていましたか？



カメは木から落ち、ハチの巣はカメの上に落ちました。ハイエナははちみつを舐めました。

1. ハイエナははちみつにとっても夢中でカメを助けませんでした。あなたは1つのことに夢中になりすぎて、他にやるべきことをすっかり忘れてしまったことはありますか？

2. ハイエナは友達を助けるべきでした。ハイエナはとても良い友達ですか？

3. このページのハチは、前のページのハチよりも数が多いと思いますか？それとも少ないと思いますか？




ハチがハイエナを刺しました。ハイエナは走りましたが、ハチはハイエナを追いかけました。

1. なぜハチはハイエナを追いかけ、刺したのでしょうか？

2. ハチの巣はハチのお家です。人間がハチの巣からはちみつを取るのは大丈夫でしょうか？それとも、ハチのお家には触れずにそのままにしておくべきでしょうか？

3. あなたはこれまでにハチや他の刺す昆虫から逃げようとしたことはありますか？あなたは逃げることができましたか？



ハイエナは川に走って行きました。ハチたちはまだハイエナを追いかけていました。

1. なぜハイエナは川に入ったのでしょうか？それは上手くいきましたか？

2. ハチは水の中に入ることができませんが、ハイエナは長い間、水中にいたことができます。あなたはハイエナはどうすべきだと思いますか？

3. かわいそうなハイエナは惨めなことでしょう。あなたはこれまでにハチや他の種類のものに刺されたことはありますか？もし刺されたことがある場合、とても痛かったですか？




カメの背中にはハチの巣とはちみつが乾いていました。

1. すべてのハチがハイエナを追いかけて、カメだけが残りました。

2. カメは乾いたはちみつの層の下で静かに座っていて、とても安全そうに見えます。あなたには安全で平和に感じられる静かな場所がありますか？もしかしたら、そこは他の人が知らない場所かもしれません。

3. カメの表情を見て、あなたはカメがどのように感じていると思いますか？




カメは身を守るために甲羅を手に入れて、家に帰りました。

1. はちみつはカメの上で美しい模様で乾きました。あなたのまわりに面白い自然の模様が思い浮かびますか？

2. 人々はものを作るときにたくさんの模様を作ります。タイルは面白いデザインを作るためによく配置されます。あなたの近くでタイルの模様はありますか？

3. あなたはどう思いますか？背中に大きな甲羅を背負って椅子に座るのはどれだけ楽でしょうか？



刺されたことで、ハイエナの身体には斑点ができました。

1. ハイエナには、私たちが今日見ているハイエナと同じように斑点がたくさんあります。

2. ハイエナにはいくつの斑点があるかを素早く見積もり、それらを数えてみましょう。あなたの見積もりはどれくらい近かったですか？

3. 素早く見積もることは2人で楽しんで遊ぶことができるゲームです。誰の見積もりが一番近かったですか？

カメとハイエナはもう友達ではありません。

1. カメとハイエナは友達にはいつもなりそうにありません。物語で何が起きて、カメとハイエナは友達ではなくなったのでしょうか？
2. あなたは誰かと友達でいられなくなる原因となった出来事がありますか？
3. あなたはカメとハイエナがいつか友達に戻ると思いますか？

Hyena and Tortoise

Author -- AliceMulwa

Adaptation -- AfricanStorybook

Illustration -- SalimKasamba

Language -- English

Level -- Firstwords

© African Storybook Initiative 2015

Creative Commons: Attribution 4.0

Source www.africanstorybook.org